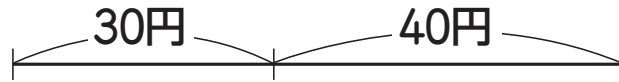


あめとガムを買いに行きました。
あめは30円，ガムは40円でした。
ラムネもほしくなって買ったら，
ぜんぶ全部で90円になりました。
ラムネは何円でしたか。



図にかいてみましょう。

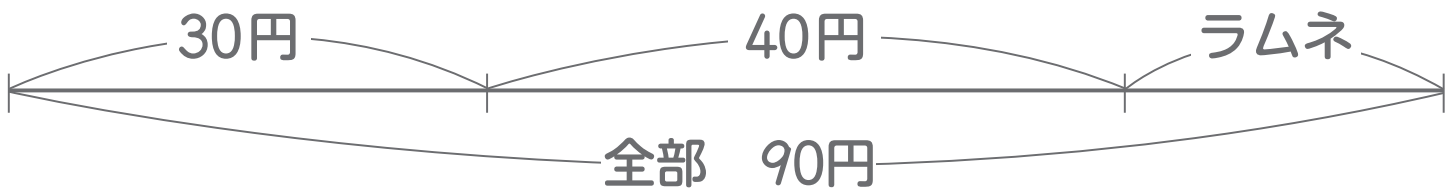
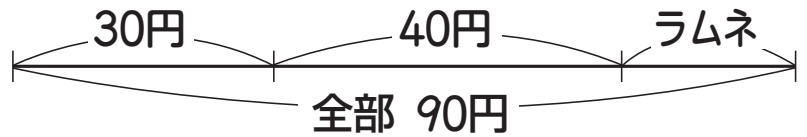
- ① あめとガムを買った
30円のあめと40円の
ガムを買った。



- ② ラムネを買った
ラムネは何円か
わからない。



- ③ 全部で90円
あめとガムとラムネ,
全部で90円。



- ④ 公園で、男の子13人と女の子
8人が^{あそ}遊んでいました。

そこへ、友だちが何人か来たので、
全部で28人になりました。

友だちは何人
来ましたか。

