

1 たし算

1

の の $17+3$ の 計算を
して みましょう。



や



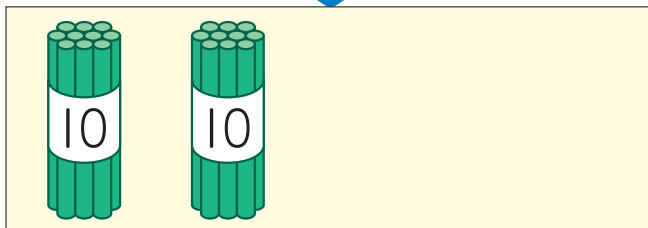
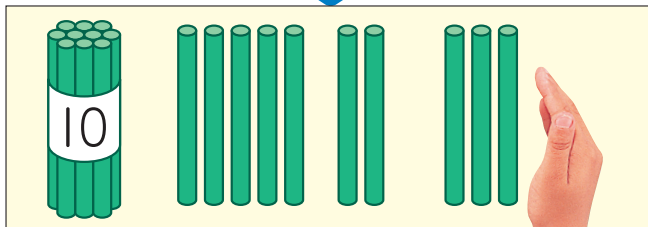
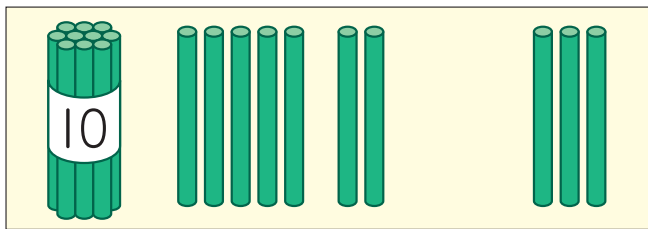
を

つかって

考え

ましょ

う。



7と 3で
10だから……



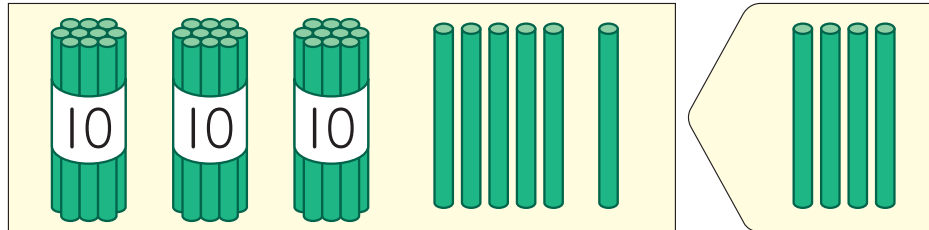
$$17+3=$$

本

21-1



2 36に 4を たすと いくつに
なりますか。



3

1のれんしゅう

① $18+2$

② $11+9$

③ $14+6$

④ $16+4$

4

2のれんしゅう

① $39+1$

② $52+8$

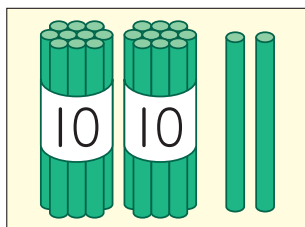
③ $63+7$

④ $75+5$

5

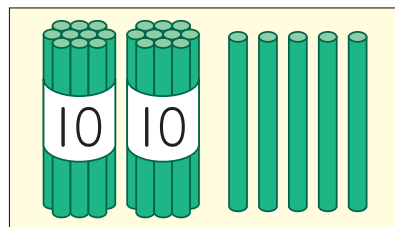
つぎの ^{かず}数に
いくつ たすと
30に なりますか。

ア



22

イ



25

もっとれんしゅう

