

# 1 たし算

1

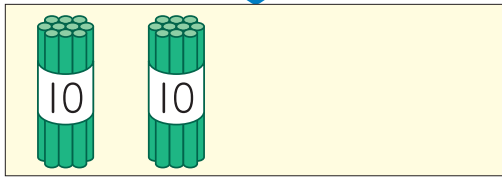
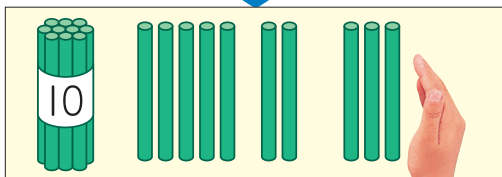
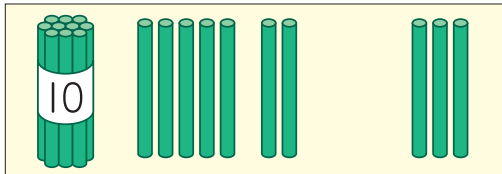
の ①の  $17+3$  の 計算を して みましょう。



や



を つかって 考えましょう。



7と 3で  
10だから……



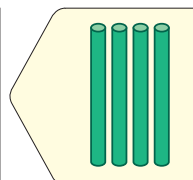
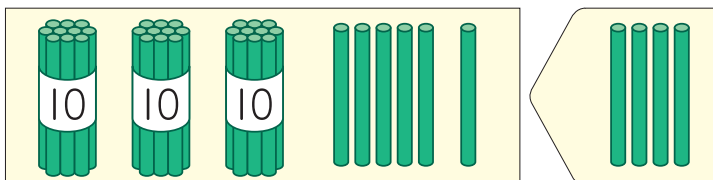
$17+3=$



本



36に 4を たすと いくつに なりますか。



3

①  $18+2$

②  $11+9$

③  $14+6$

④  $16+4$

1のれんしゅう

4

①  $39+1$

②  $52+8$

③  $63+7$

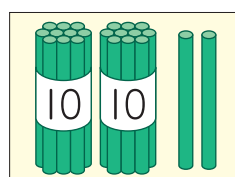
④  $75+5$

2のれんしゅう

5

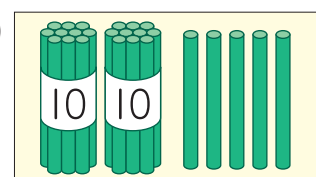
つぎの <sup>かず</sup>数に  
いくつ たすと  
30に なりますか。

ア



22

イ



25

