

見方・考え方を  
ふかめようかっても  
まけても！

ちがいをみて

赤組  
15

白組

<sup>ぐみ</sup>赤組が <sup>てん</sup>白組を  
4点 リードして  
います。

1

赤組と 白組で とく点を  
きそって います。

赤組は 15点です。

赤組は、白組より 4点  
<sup>おお</sup>多いそうです。

白組は <sup>なん</sup>何点ですか。



赤組と 白組では  
どちらの とく点  
が多いのかな。



<sup>の</sup>図をつかって  
みると……



かず

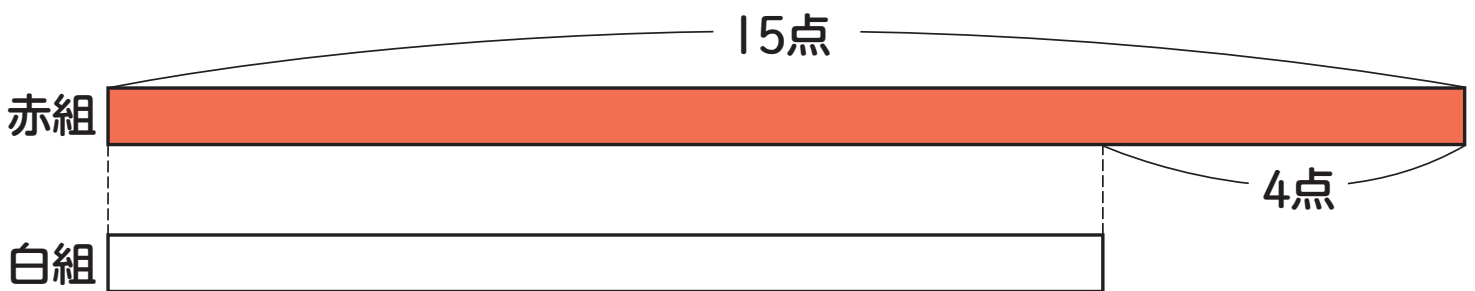


めあて

図をつかって、わからない <sup>かず</sup>数の  
もとめ方 <sup>かた</sup> <sup>かんが</sup>を考えよう。




図にかいて考えましょう。



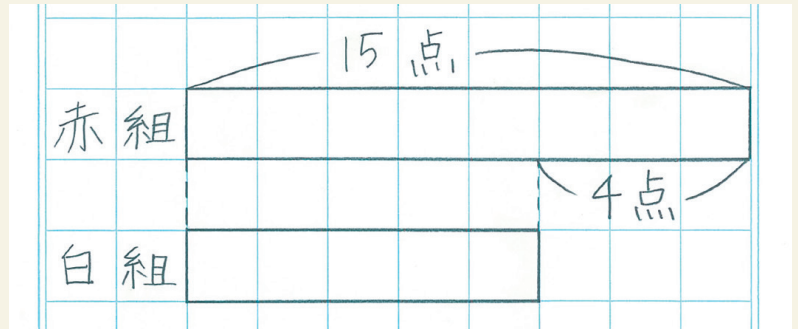
57 ページの 図の  
かき方を見て、  
かいて みましょう。



① 赤組は 15点



② 赤組は 白組より 4点 多い



図の  
かき方



① 図を つかって せつめいしましょう。



上は 赤組で 15点です。  
下は 白組で……

図から、白組は 赤組より  
4点 <sup>すく</sup> 少ない ことが  
わかるから……



しき  =   点



## まとめ

どれだけ 数が 大きいかが わかっている とき、図を 2本 かくと、数の 大小が よく わかります。



2 りんごと みかんを <sup>か</sup>買います。

りんごは 85 円です。

りんごは、みかんより 45 円 <sup>たか</sup>高いそうです。

みかんは 何円ですか。

