



見方・考え方を
ふかめよう

かっても
まけても！



ちがいをみて

赤組
15

白組

^{ぐみ}赤組が ^{てん}白組を
4点 リードして
います。

1

赤組と 白組で とく点を
きそって います。

赤組は 15点です。

赤組は、白組より 4点
^{おお}多いそうです。

白組は ^{なん}何点ですか。



赤組と 白組では
どちらの とく点が
多いのかな。



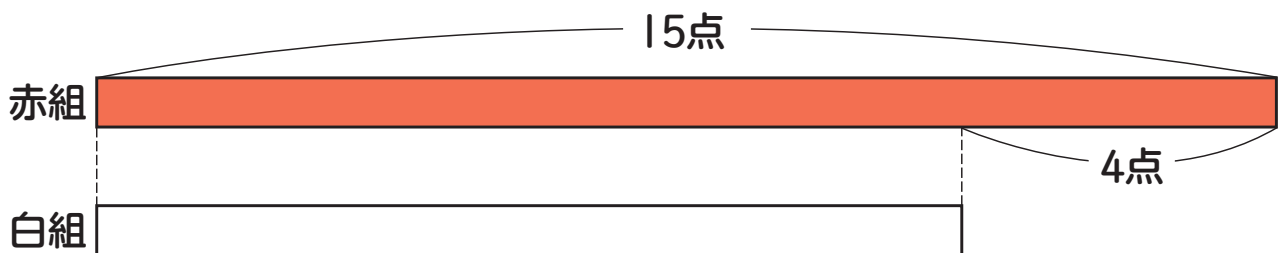
ず
図を つかって
みると……



めあて → 図を つかって、わからない ^{かず}数の
もとめ方を ^{かた} ^{かんが}考えよう。



ア 図に かいて 考えましょう。

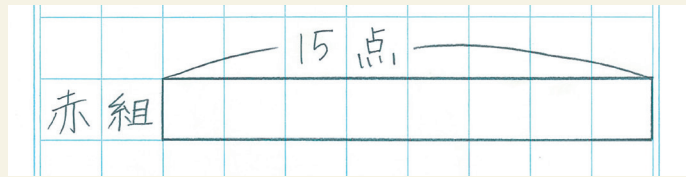


57 ページの 図の
かき方を見て、
かいて みましょう。

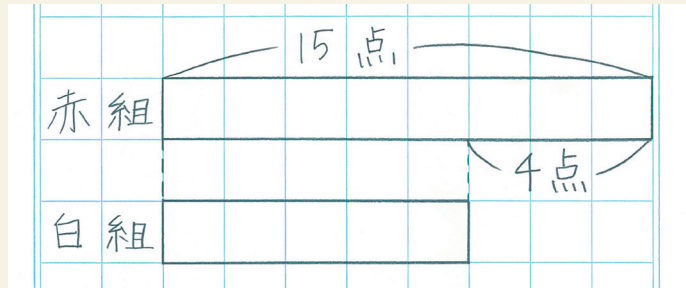


図の かき方

① 赤組は 15点



② 赤組は 白組より 4点 多い

図の
かき方

① 図を つかって せつめいしましょう。



上は 赤組で 15点です。
下は 白組で……

図から、白組は 赤組より
4点 ^{すく} 少ない ことが
わかるから……



しき

$$\boxed{\quad} = \boxed{\quad}$$

$$\boxed{\quad} \text{点}$$



見方・考え方を つかめよう



まとめ

どれだけ 数が 大きいかが わかっている とき、図を 2本 かくと、数の 大小が よく わかります。



2 りんごと みかんを ^か買います。

りんごは 85円です。

りんごは、みかんより 45円

^{たか}高いそうです。

みかんは 何円ですか。

