

1

下の表は、こうきさんが  
調べた1日の気温です。

これを折れ線グラフに  
かいてみましょう。



1日の気温

(4月22日調べ)

時こく(時)	午前9	10	11	12	午後1	2	3
気 温(度)	16	17	19	21	24	25	23

横のじくに時こく、  
たてのじくに気温を  
とればいいね。



だいち

目もりはどのように  
つければいいかな。



ひなた

めあて

目もりのつけ方に気をつけて、  
折れ線グラフをかこう。

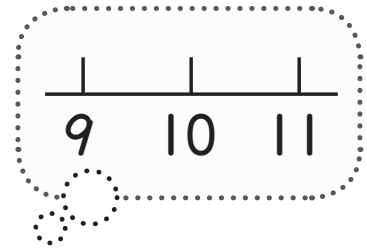
ア 横のじくに時こくをとります。

午前9時から1時間ごとの時こくを  
かくには、目もりはどのようにつければ  
よいですか。

9, 10, 11, ……  
目もりは7こいるね。



かいと



1目もりをどれくらいのはばにするといいかな。

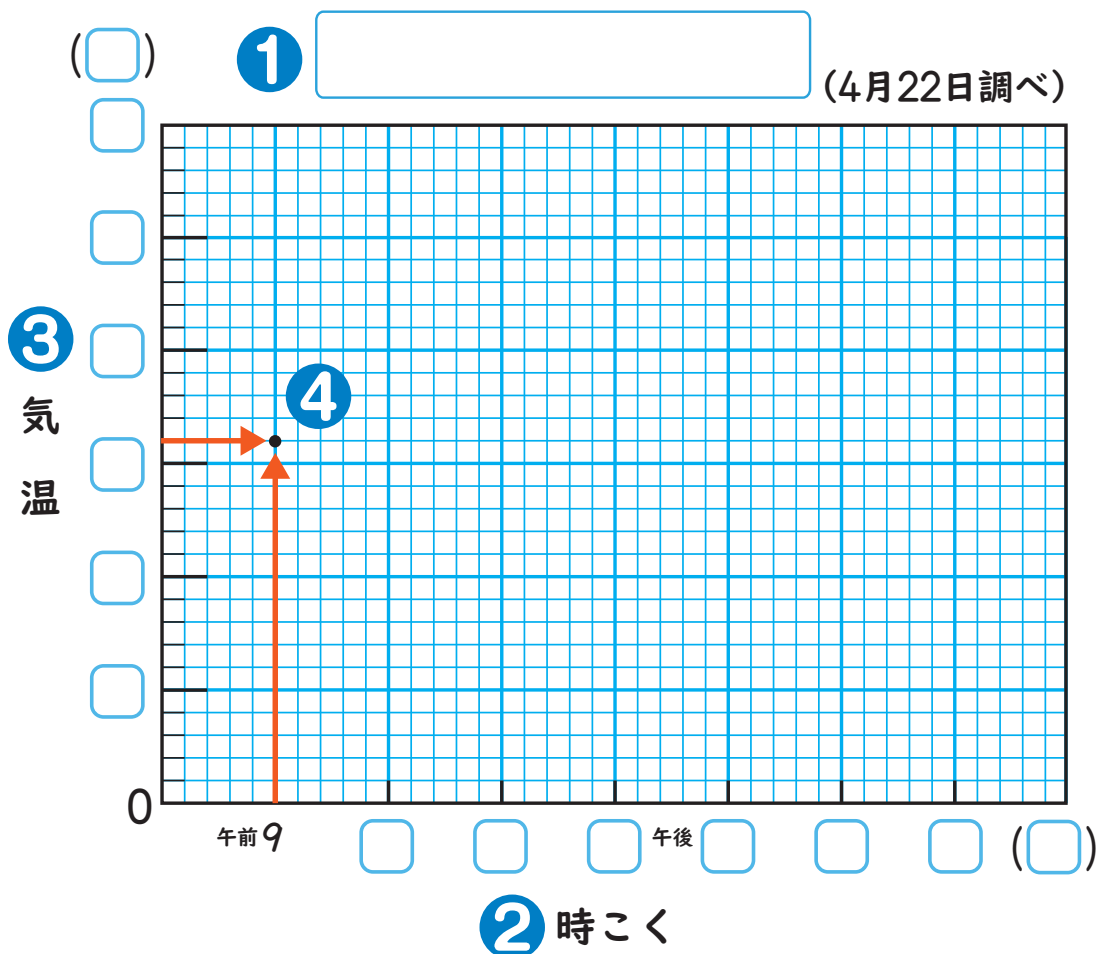


さくら

イ たてのじくに気温をとります。

1日でいちばん高い気温がかける  
ようにするには、目もりはどのように  
つければよいですか。


- ① 表題をかく。
- ② 横のじくに時こくをとる。  
目もりをつけて、<sup>たんい</sup>単位をかく。
- ③ たてのじくに気温をとる。  
目もりをつけて、単位をかく。
- ④ それぞれの時こくの気温を表す点をうつ。
- ⑤ 点を<sup>じゅん</sup>順に直線でつなぐ。



()

(4月22日調べ)

気  
温



0

午前9

午後

()

時刻