

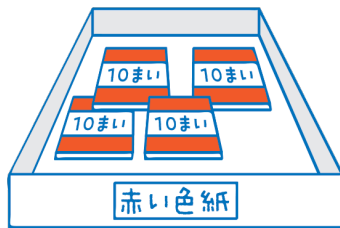
3 答えが九九にないわり算

1

同じ色の色紙を，4人に同じ数ずつ分けます。

1人分は，それぞれ何まいですか。

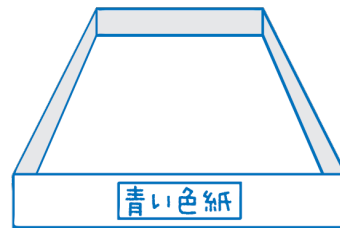
ア



40まい

しき式

イ



0まい

式



4のだんの九九の中に答えがないよ。
どうしたらいいのかな。



ひなた

めあて

答えが九九にないわり算の答えの
もとめ方を考えよう。

30-1



だいち

$$4 \times \boxed{10} = 40$$

だから……

$$40 \div 4 = \boxed{}$$

 まい



さくら

$$4 \times \boxed{0} = 0$$

だから……

$$0 \div 4 = \boxed{}$$

 まい



1の練習

- ① $20 \div 2$ ② $70 \div 7$ ③ $50 \div 5$
 ④ $0 \div 2$ ⑤ $0 \div 9$



えん^{びつ}筆が60本あります。

- ① 6人に同じ数ずつ分けると、
1人分は何本になりますか。
 ② 1人に6本ずつ分けると、
何人に分けられますか。

答えが10をこえるわり算

1

3こで60円のチョコレートがあります。

チョコレート1こ分は何円ですか。



3こ入り
60円

式



3のだんの九九で考えると $3 \times \square = 60$
答えが10をこえるよ。




だいち

めあて

答えが10をこえるわり算について
考えよう。

60は10の何こ分かを考えましょう。



60は 10が6こ

$60 \div 3$ は 10が($6 \div 3$)こ

$$60 \div 3 = \square$$



3 | - |

円

2
1の練習

- ① $60 \div 2$ ② $80 \div 4$ ③ $40 \div 2$

3

$69 \div 3$ の計算のしかたを
考えましょう。

69を,60と9に分けて考えましょう。



69は 60と9

$60 \div 3$ は 20

$9 \div 3$ は 3

$69 \div 3 =$



4
3の練習

- ① $39 \div 3$ ② $66 \div 3$ ③ $84 \div 4$

もっと練習 140ページ 13 14 **31-2**