



I くるまが 8だい とまって
います。

3だい くと, なんだいに
なりますか。

あ しきに かきましょう。

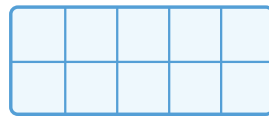
しき


3だい ふえるから,
たしざんに なります。

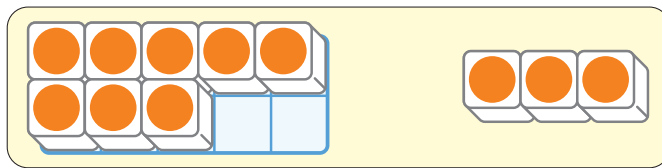


ひなた

めあて




と  を つかって、
けいさんの しかたを
かんがえよう。

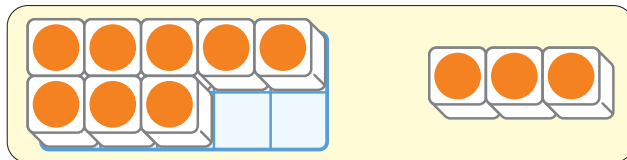


10を
こえそうだよ。



だいち

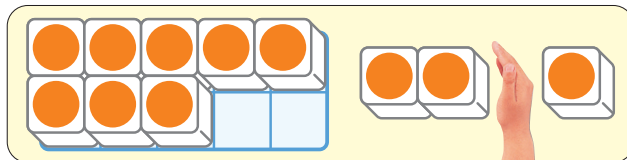
①  を うごかして $8+3$ の
けいさんを して みましょう。



10をつくれば
かぞえやすいよ。



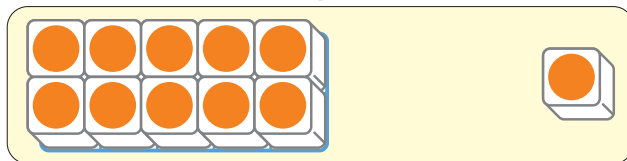
ひなた



3から 2
うごかせば、
10になるよ。



だいち



10と 1で……



さくら

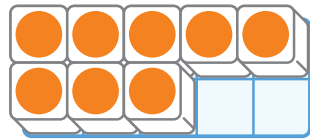
$$8+3=$$

だい

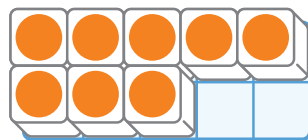
95-1

2

① $8+5$



② $8+6$



10のまとまりをつくると、
けいさんしやすいです。

