

◆各問題について、自分で自信があるかないか、マークに○をつけましょう。

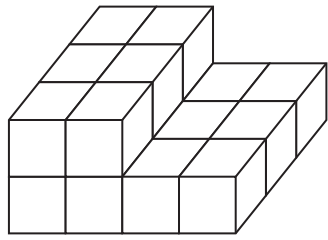
😊 自信あり 😊 まあまあ自信あり 😞 少し自信なし 😞 自信なし

5年

2. 体積

クラス	名
	組前

① 1辺が1cmの立方体の積み木を使って、右のような形をつくりました。



① 1辺が1cmの立方体が何個分ありますか。

()

② この形の体積は何cm³ですか。

()

😊 😊 😞 😞

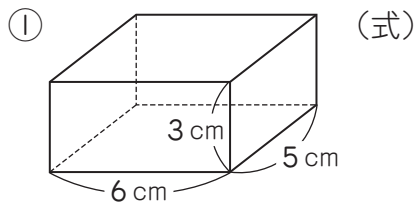
② 次の体積を求める公式をかきましょう。

① 直方体の体積 = × ×

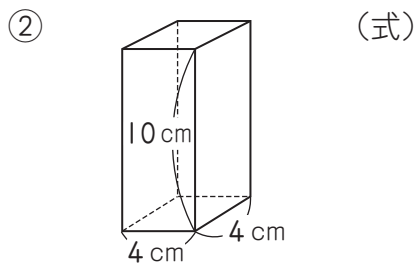
② 立方体の体積 = × ×

😊 😊 😞 😞

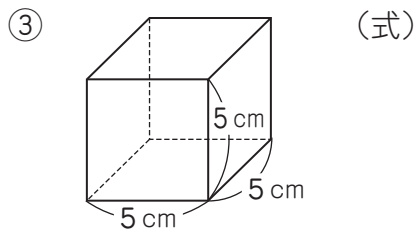
③ 次の直方体や立方体の体積を求めましょう。



答え ()



答え ()



答え ()

😊 😊 😞 😞

④ 1m³は何cm³になるかを考えます。
□にあてはまる数をかきましょう。

1m³は1辺が cmの立方体の体積だから、

× × で、

1m³ = cm³です。

😊 😊 😞 😞

⑤ 次の直方体や立方体の体積を求めましょう。

① たて2m、横4m、高さ5mの直方体の体積
(式)

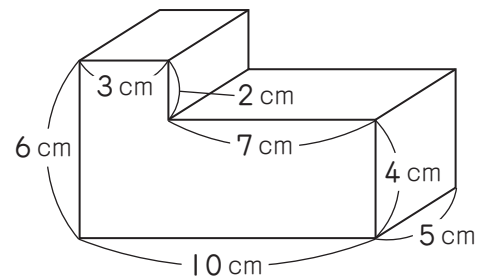
答え ()

② 1辺3mの立方体の体積
(式)

答え ()

😊 😊 😞 😞

⑥ 次のような図形の体積を求めましょう。



(式)

答え ()

😊 😊 😞 😞

(体積) の学習をふりかえって

★ この学習は楽しかったですか。

(はい まあまあ 少し いいえ)

● 感想を自由にかきましょう。(授業の中で、じゅぎょうおもしろかったことや気づいたことなど)

◆ この学習はよくわかりましたか。

(はい まあまあ 少し いいえ)