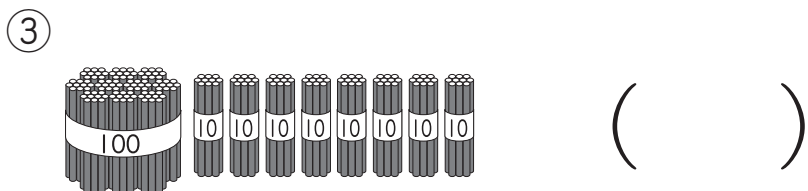
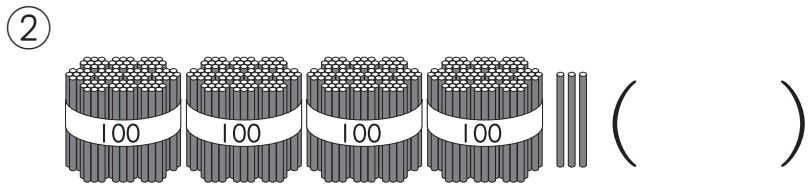
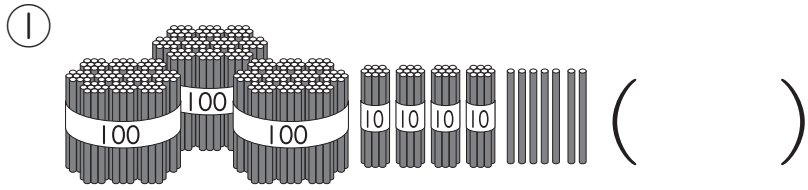


① ^{なんぼん}何本 ありますか。
^{すうじ}数字で かきましょう。



② 数字で かきましょう。

① 六百二十一 ()

② 三百八 ()

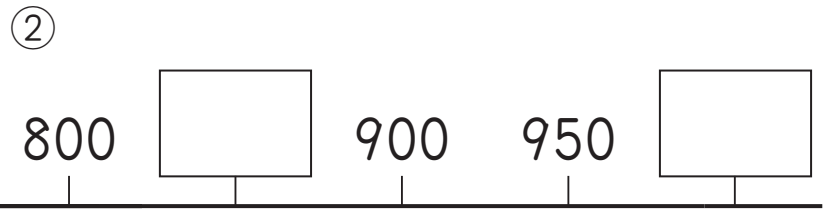
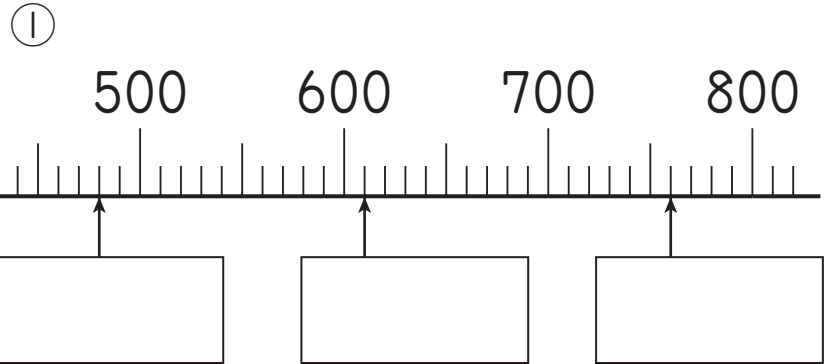
③ 100を7こ, 10を4こ,
1を2こ あわせた ^{かず}数 ()

④ 100を5こ, 1を7こ
あわせた 数 ()

⑤ 10を68こ あつめた 数 ()

⑥ 100を10こ あつめた 数 ()

③ □に あてはまる 数を かきま
しょう。



④ 2つの 数を くらべて, □に
>か <を かきましょう。

① 432 □ 569

② 690 □ 678

⑤ つぎの ^{けいさん}計算を しましょう。

① 60+70

② 400+500

③ 110-90

④ 800-200

(1000までの数) の 学しゅうを ふりかえって

★ この 学しゅうは たのしかったですか。

(はい まあまあ すこし いいえ)

◆ この 学しゅうは よく わかりましたか。

(はい まあまあ すこし いいえ)

● じゆぎょうの 中で, おもしろかった ことや わかった ことなどの
かんそうを かきましょう。