


◎ 求大, 求小の考え方

① えを みて こたえましょう。



※ 求大の問題

①

あめを 6こ
もって いるよ。



みき

みきさんより
3こ おおいよ。

なおや

なおやさんは あめを なんこ
もって いますか。


9



 こ

※ 求小の問題

②

あかい
チューリップが
7ほん
さいたよ。



しろい
チューリップの
ほうが 2ほん
すくないよ。


しろい チューリップは
なんほん さきましたか。

5

 ほん

◎ 求大の問題

② たまいれを しました。
しろぐみは 9こ
はいりました。あかぐみは
それより 5こ
おおいそうです。
あかぐみは なんこ
はいりましたか。



しき

$$9 + 5 = 14$$

こたえ

14

 こ

◎ 求小の問題

③ あかい おはじきが 12こ あります。
みどりの おはじきは それより
4こ すくないそうです。
みどりの おはじきは なんこ
ありますか。

しき

$$12 - 4 = 8$$

こたえ

8

 こ

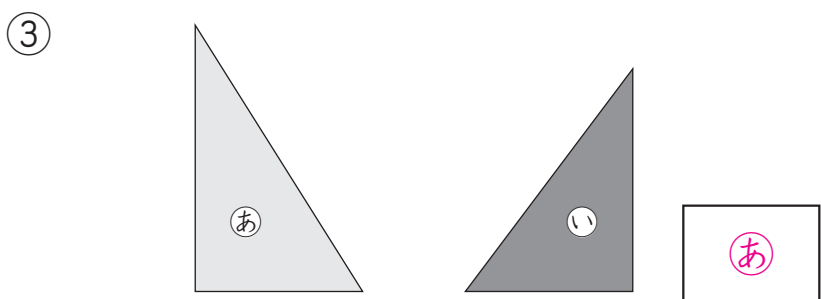
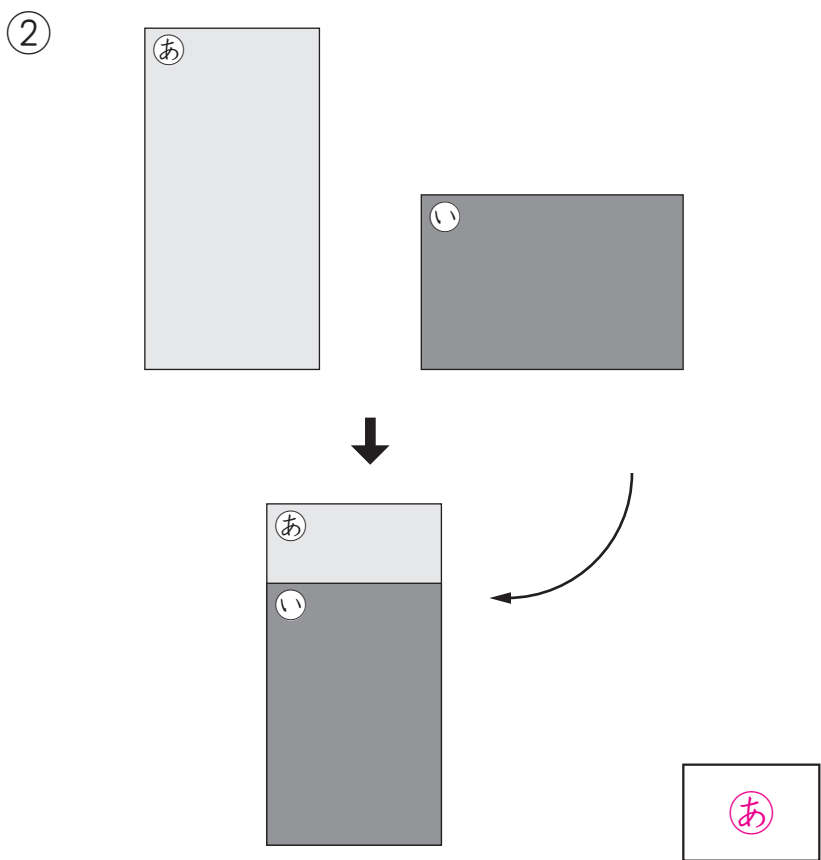
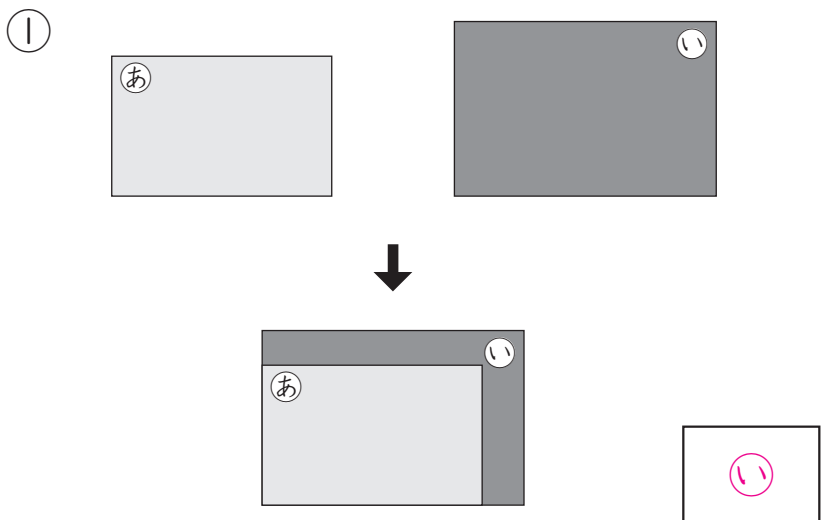
「おおい ほう すくない ほう」の
がくしゅうは たのしかったですか？

「おおい ほう すくない ほう」の
がくしゅうは よく わかりましたか？




◎ 面積の直接比較

① あと いでは どちらが ひろいでしょう。



◎ 面積の任意単位による比較

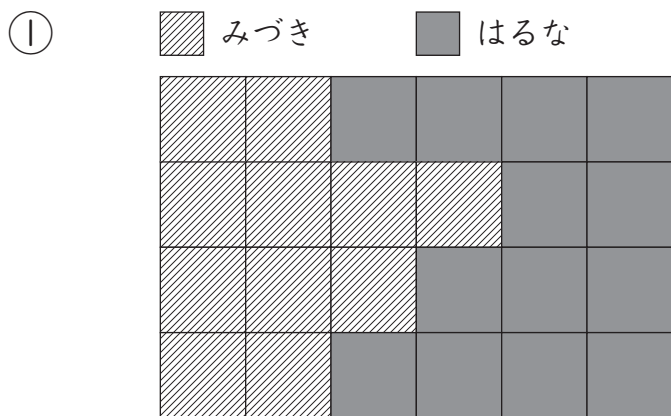
② ばしとりゲームを しました。 かったのは どちらでしょう。



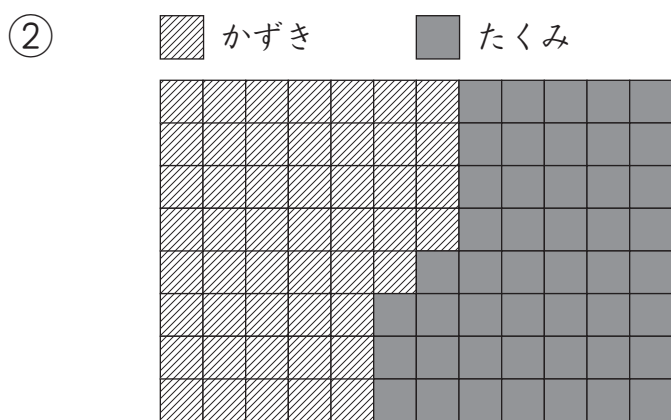
けんた

◎ 面積の任意単位による比較

③ じゃんけんで かったら, □を 1つ ぬります。 かったのは どちらでしょう。



はるな



かずき

「大きさをくらべ (2)」の がくしゅうは たのしかったですか？



「大きさをくらべ (2)」の がくしゅうは よく わかりましたか？

