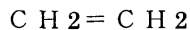
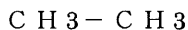


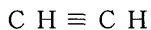
※分子模型の組立

分子模型を用いて次の化合物を組み立て、同一平面上に最大何個の原子が存在し得るかを答えよ。

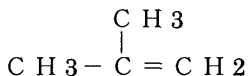
- (1) エタン () 個 (2) エチレン () 個



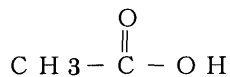
- (3) アセチレン () 個 (4) プロペン () 個



- (5) 2-メチルプロペン () 個 (6) 1,3-ブタジエン () 個



- (7) エタノール () 個 (8) 酢酸 () 個



- (9) ベンゼン () 個 (10) シクロヘキサン

