


# かけられる数と かける数

1

おかしのはこが 4つ  
あります。

1つのはこには、  
おかしが 5こずつ  
はいつて います。

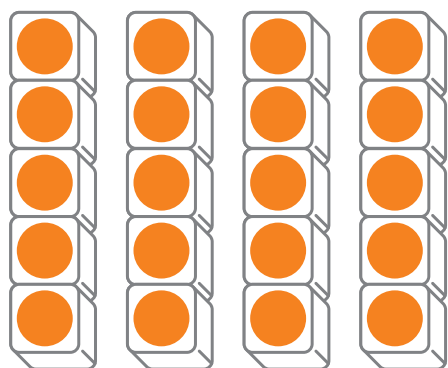

みんなで 何こに  
なりますか。



おたすけ

何この いくつ分かを <sup>ぶん</sup> <sup>かんが</sup> 考えましょう。

しきは、 $4 \times 5$  かな、  
 $5 \times 4$  かな……



1つ分の 数は 5で、  
その 4つ分だから、  
しきは  $5 \times 4$  に  
なります。