

◆それぞれの問題について、マークに○をつけましょう。

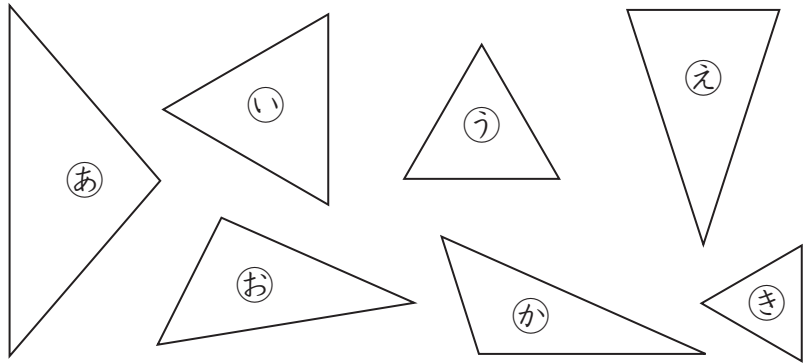
😊 自信あり 😊 まあまあ自信あり 😞 少し自信なし 😞 自信なし

3年

9. 三角形

| | |
|-----|----|
| クラス | 名 |
| | 組前 |

① コンパスを使って、二等辺三角形、正三角形を
みつけましょう。



二等辺三角形 ()

正三角形 ()

😊 😊 😞 😞

② 次の三角形をかきましょう。

① 辺の長さが3cm, 4cm, 4cmの二等辺三角形

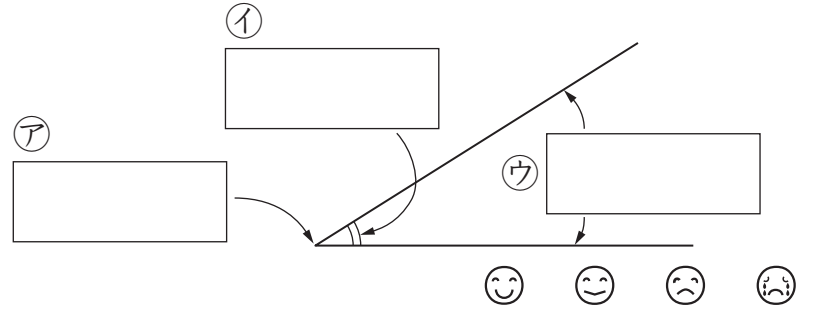


② 辺の長さが4cmの正三角形



😊 😊 😞 😞

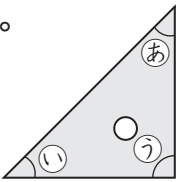
③ ア～ウの名まえをかきましょう。



④ | 組の三角じょうぎの角の大きさについて、
□ にあてはまる記号をかきましょう。

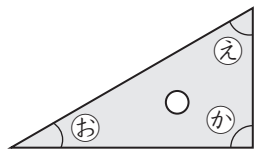
① いちばん小さい角は、

□ の角です。



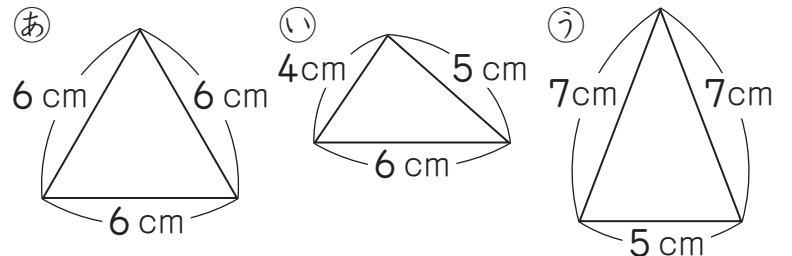
② あのと同じ大きさの

角は、□ の角です。



😊 😊 😞 😞

⑤ 次の三角形について、下の問いに記号で答えま
しょう。



① 2つの角の大きさが等しい三角形はどれで
しょう。

□

② 3つの角の大きさがみんな等しい三角形はど
れでしょう。

□

😊 😊 😞 😞

(三角形) の学習をふりかえって

★ この学習は楽しかったですか。

(はい まあまあ 少し いいえ)

● じゅぎょうの中で、おもしろかったことやわかったことなどのかんそうを
かきましょう。

◆ この学習はよくわかりましたか。

(はい まあまあ 少し いいえ)